

Ad Soyad:

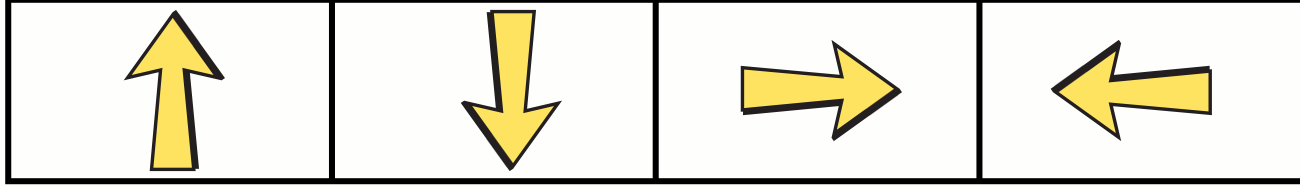




2025-2026 EĞİTİM ÖĞRETİM YILI
1.SINIF MATEMATİK DERSİ(MAARİF MODEL)
1.TEMA NESNELERİN GEOMETRİSİ
SÜREÇ DEĞERLENDİRME ÖLÇME ARACI

! Aşağıda yer alan tüm sorular Matematik-1(Maarif Model) kazanımlarına uygun olarak hazırlanmış olup, öğrenci cevapları Ek-1 de bulunan 'Süreç Değerlendirme Formu' üzerinden değerlendirilecektir.

Öğrenme Çıktısı / Süreç Bileşeni: Hedefe ulaşmak için mesafeleri ve yönleri içeren yönergeleri çözümleyebilme.

Uygulama: Öğrencilerden ok işaretlerini sırasıyla kullanarak tavuğu aşağıda yer alan civcilere ulaştırması istenir. Doğru uygulama için yanda yer alan kutucuk işaretleridir.





Uygulama: Öğrencilerden resmi incelemesini ve aşağıdaki soruları resme göre cevaplaması istenir. Her doğru uygulama için yanında yer alan kutucuklar işaretlerinizdir.



Koltuğun üstünde hangisi vardır?
Köpek Televizyon Çiçek

Çiçeğin sağında hangisi vardır?
Sehpa Televizyon Koltuk

Yastıkların arasında hangisi vardır?
Köpek Halı Lamba

Öğrenme Çıktısı / Süreç Bileşeni: Nesnelerin eşliğini değerlendirebilme.

Uygulama: Öğrencilerden aşağıdaki şekillerden eş olanları işaretlemeleri istenir. Her doğru uygulama için yandaki kutucuklar işaretlenir.

